
**MODUL PRAKTIKUM
DASAR SISTEM KENDALI**



**LABORATORIUM SISTEM PENGATURAN & KOMPUTER
DEPARTEMEN TEKNIK ELEKTRO
FAKULTAS TEKNIK
UNIVERSITAS SUMATERA UTARA**

PRAKTIKUM

PENGENDALI PID MENGGUNAKAN MATLAB

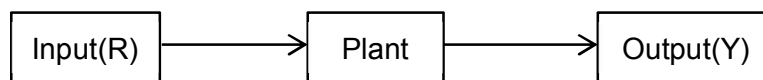
I. TUJUAN

- Mahasiswa mampu mengenal Pengendali PID
- Mahasiswa dapat memahami karakteristik Pengendali PID
- Mahasiswa mampu menggunakan pengendali PID dalam pengendalian sistem kendali

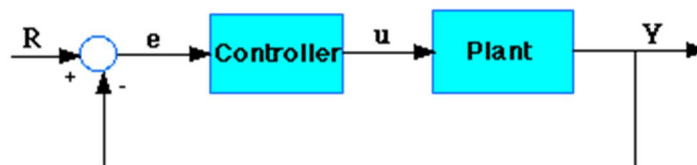
II. DASAR TEORI

1. Pengendali PID

Pengendali PID banyak dipergunakan karena sederhana dalam penggunaannya dan mudah dipelajari. Lebih dari 95% proses di industri menggunakan pengendali ini. Pengendali ini merupakan gabungan dari pengendali proporsional (P), integral (I), dan derivative (D). Berikut ini merupakan blok diagram dari sistem pengendali dengan untai terbuka dan tertutup (*open loop* dan *closed loop*) :



Gambar 1. Diagram Blok *Open Loop*



Gambar 2. Diagram Blok *Closed Loop*

- Plant : sistem yang akan dikendalikan
 Controller : Pengendali yang memberikan respon untuk memperbaiki respon
 e : $error = R -$ pengukuran dari sensor

$$MV(t) = P_{out} + I_{out} + D_{out}$$

Variabel yang nilai parameternya dapat diatur disebut *Manipulated variable* (MV) biasanya sama dengan keluaran dari pengendali ($u(t)$). Keluaran pengendali PID akan mengubah respon mengikuti perubahan yang ada pada hasil pengukuran sensor dan set point

yang ditentukan. Pembuat dan pengembang pengendali PID menggunakan nama yang berbeda untuk mengidentifikasi ketiga mode pada pengendali ini diataranya yaitu :

P	<u>Proportional Band</u>	= 100/gain
I	<u>Integral</u>	= 1/reset (units of time)
D	<u>Derivative</u>	= rate = pre-act (units of time)

Atau

P K_p = Konstanta Proportional

I $K_i = \frac{1}{T_i} \int e(t) dt = \frac{1}{T_i s} = K_i/s$ = Konstanta Integral

D $K_d = T_d \frac{d e(t)}{dt} = K_d.s$ = Konstanta Derivative

Atau secara umum persamaannya adalah sebagai berikut :

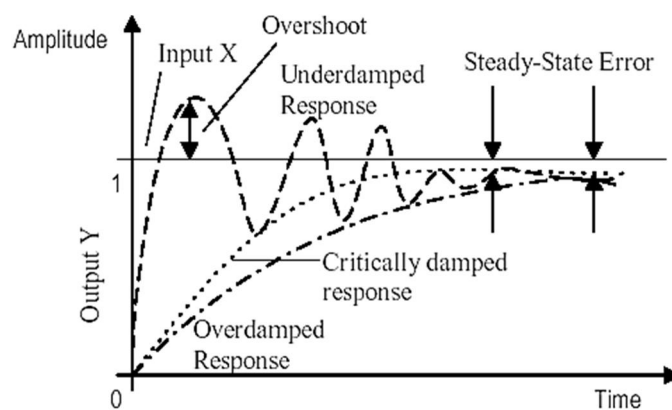
$$U(t) = K_p + \frac{1}{T_i} \int e(t) dt + T_d \frac{d e(t)}{dt} = K \left[e(t) + \frac{1}{T_i} \int_0^t e(t) dt + T_d \frac{d e(t)}{dt} \right]$$

atau dapat pula dinyatakan dengan :

$$K_p + \frac{K_I}{s} + K_D s = \frac{K_D s^2 + K_p s + K_I}{s}$$

2. Karakteristik Pengendali PID

Sebelum membahas tentang karakteristik Pengendali PID maka perlu diketahui bentuk respon keluaran yang akan menjadi target perubahan yaitu :



Gambar 3. Jenis Respon keluaran

Tiga jenis sistem kendali dan karakteristiknya:

1. Kendali Proporsional (P)

Pengaruh pada sistem :

- Menambah atau mengurangi kestabilan
- Dapat memperbaiki respon transien khususnya : *rise time, settling time*.
- Mengurangi waktu naik, tidak menghilangkan *Error steady state*

Untuk menghilangkan E_{ss} , dibutuhkan K_p besar, yang akan membuat sistem lebih tidak stabil.

2. Kendali Integral (I)

Pengaruh pada sistem :

- Menghilangkan *Error Steady State*
- Respon lebih lambat (dibanding P)
- Dapat menimbulkan ketidakstabilan (karena menambah orde sistem)

3. Kendali Derivatif (D)

Pengaruh pada sistem :

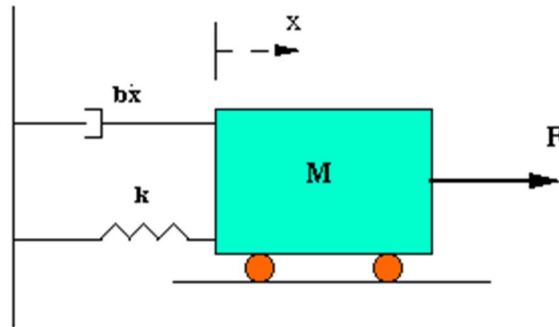
- Memberikan efek redaman pada sistem yang berosilasi sehingga bisa memperbesar pemberian nilai K_p .
- Memperbaiki respon transien, karena memberikan aksi saat ada perubahan *error*.
- D hanya berubah saat ada perubahan *error*, sehingga saat ada *error* statis D tidak beraksi Sehingga D tidak boleh digunakan sendiri.

Tabel 1. Karakteristik Masing-masing pengendali

CL RESPONSE	RISE TIME	OVERSHOOT	SETTLING TIME	S-S ERROR
K_p	Decrease	Increase	Small Change	Decrease
K_i	Decrease	Increase	Increase	Eliminate
K_d	Small Change	Decrease	Decrease	Small Change

III. PERCOBAAN 1

Jika diketahui suatu proses yang terlihat pada gambar 3 berikut ini :



Gambar 4. Model Spring Damper

Persamaan model pada gambar tersebut yaitu :

$$M\ddot{x} + b\dot{x} + kx = 1$$

Sehingga *transformasi laplace* untuk persamaan tersebut dengan nilai awal = 0 maka didapat :

$$Ms^2X(s) + bsX(s) + kX(s) = F(s)$$

Jika keluaran sistem ini merupakan $X(s)$ dan inputnya adalah $F(s)$ maka fungsi alihnya yaitu :

$$\frac{X(s)}{F(s)} = \frac{1}{Ms^2 + bs + k}$$

Jika diketahui besaran-besaran pada persamaan tersebut yaitu :

- $M = 1$ kg
- $b = 10$ N.s/m
- $k = 20$ N/m
- $F(s) = 1$

Maka persamaan fungsi alih diatas menjadi :

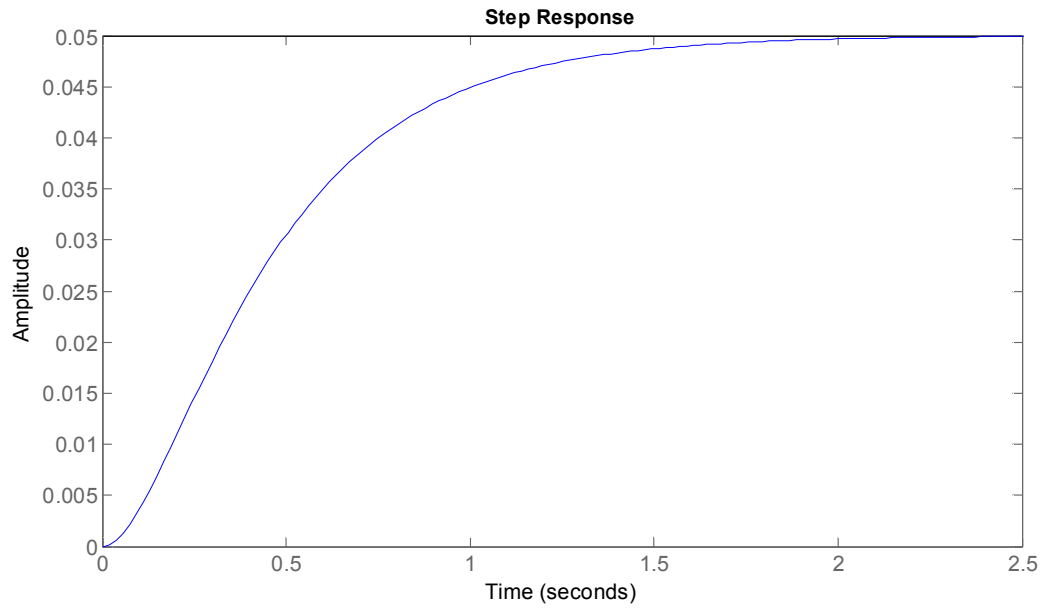
$$\frac{X(s)}{F(s)} = \frac{1}{s^2 + 10s + 20}$$

Persamaan inilah yang akan dipergunakan.

A. Identifikasi respon secara Open loop

➤ Buka matlab pilih new file, kemudian tuliskan :

```
Fs=1;  
Xs=[M b k];  
step(Fs,Xs)
```



Gambar 5. Respon keluaran Open Loop

B. Kendali Proporsional

Dari persamaan fungsi alih yang diketahui :

$$\frac{X(s)}{F(s)} = \frac{1}{s^2 + 10s + 20}$$

Jika dibentuk menjadi close loop dengan penambahan K_p didapatkan :

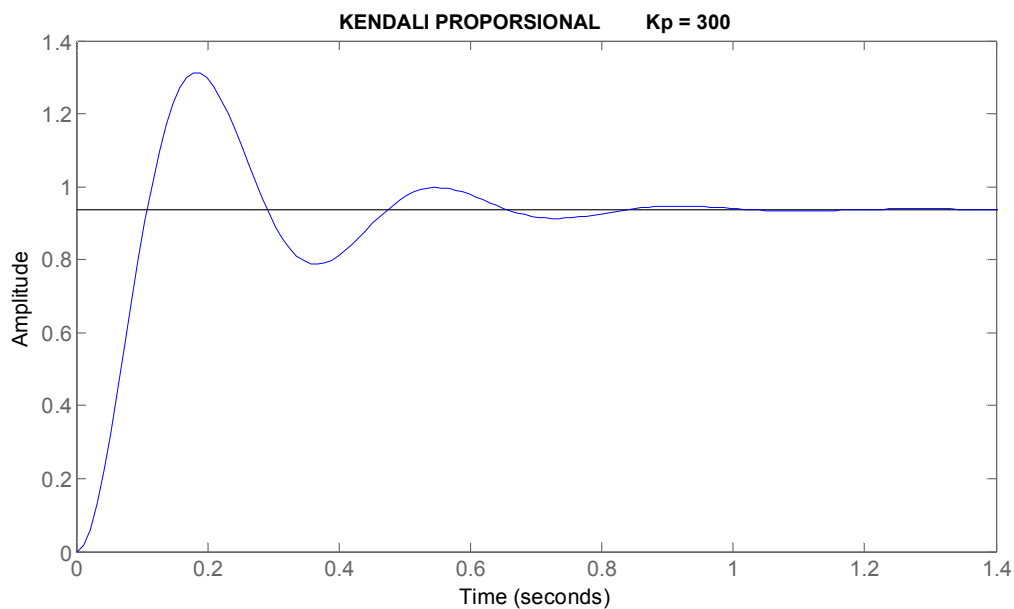
$$\frac{X(s)}{F(s)} = \frac{K_p}{s^2 + 10s + (20 + K_p)}$$

Program Matlab yang harus dibuat yaitu :

```
Kp=300;
Fs=[Kp];
Xs=[M b k+Kp];
```

```
step(Fs,Xs)
```

didapatkan respon berikut :



Gambar 6. Respon keluaran Pengendali P

C. Kendali Proporsional dan Derivative

Fungsi Alih closed loop didapatkan :

$$\frac{X(s)}{F(s)} = \frac{K_D s + K_P}{s^2 + (10 + K_D)s + (20 + K_P)}$$

Dengan menggunakan program Matlab :

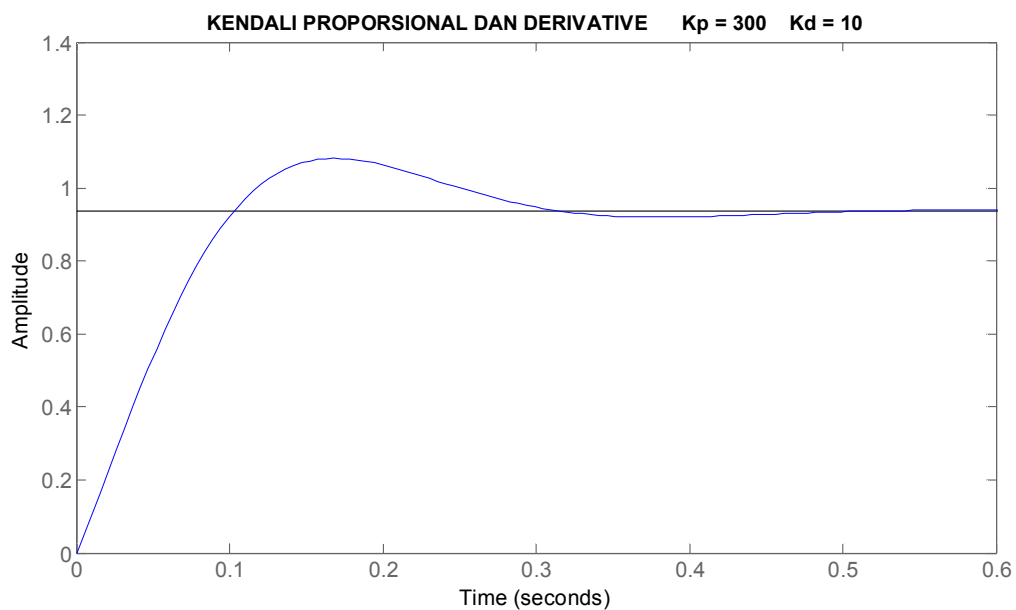
```
Kp=300;
```

```
Kd=10;
```

```
Fs=[Kd Kp];
```

```
Xs=[M b+Kd k+Kp];
```

```
step(Fs,Xs)
```



Gambar 7. Respon keluaran pengendali PD

D. Kendali Proporsional dan Integral

Fungsi Alih closed loop didapatkan :

$$\frac{X(s)}{F(s)} = \frac{K_p s + K_I}{s^3 + 10s^2 + (20 + K_p)s + K_I}$$

Dengan menggunakan program Matlab :

```
Kp=30;
```

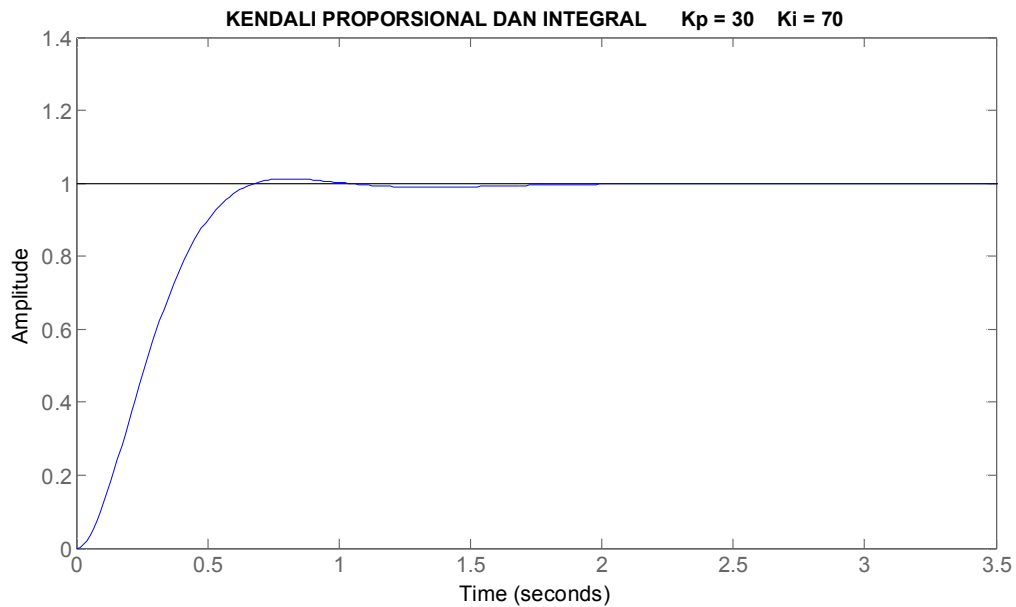
```
Ki=70;
```

```
Fs=[Kp Ki];
```

```
Xs=[M b k+Kp Ki];
```

```
step(Fs,Xs)
```

Respon yang didapat :



Gambar 8. Respon keluaran Pengendali PI

E. Kendali Proporsional, Integral dan Derivative :

Fungsi Alih closed loop didapatkan :

$$\frac{X(s)}{F(s)} = \frac{K_D s^2 + K_P s + K_I}{s^3 + (10 + K_D) s^2 + (20 + K_P) s + K_I}$$

Dengan menggunakan program Matlab :

Kp=300;

Ki=550;

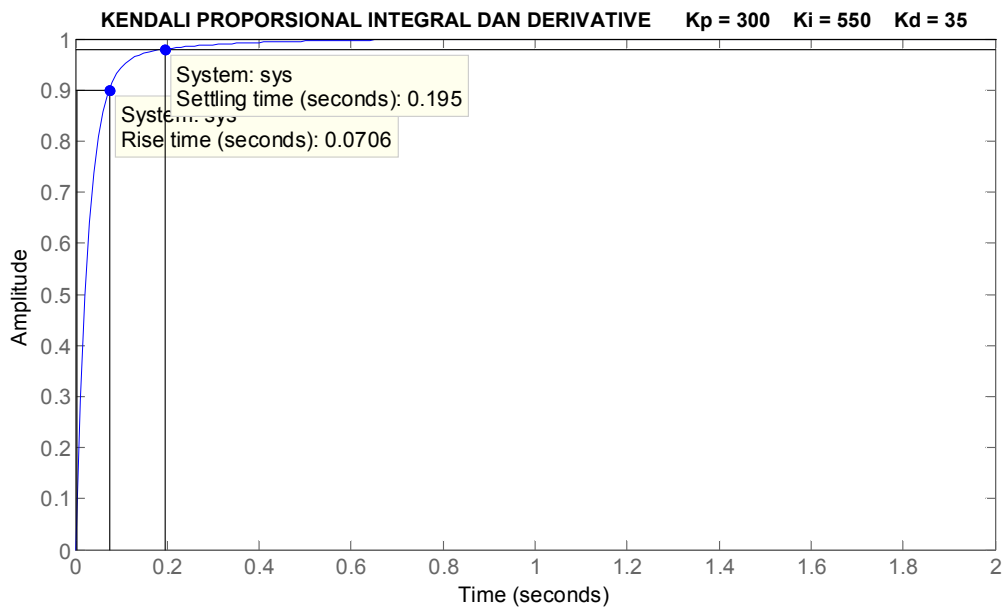
Kd=35;

Fs=[Kd Kp Ki];

Xs=[M b+Kd k+Kp Ki];

t=0:0.01:2;

step(Fs,Xs,t)



Gambar 9. Respon keluaran pengendali PID

TUGAS :

1. Ulangi sistem kendali PID di atas sesuai dengan tabel di bawah ini :

Pengaturan Nilai Kendali Proporsional pada Sistem Kendali PID

$K_i = 550$ $K_d = 35$

Nilai K_p	<i>Rise Time</i>	<i>Overshoot</i> 10^{-4}	<i>Settling Time</i>	<i>S-S Error</i>
300				
350				
400				
450				
500				

Pengaturan Nilai Kendali Integral pada Sistem Kendali PID

$K_p = 300$ $K_d = 35$

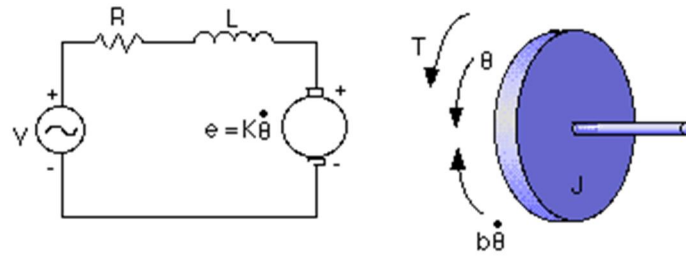
Nilai K_i	<i>Rise Time</i>	<i>Overshoot</i> 10^{-4}	<i>Settling Time</i>	<i>S-S Error</i>
550				
600				
700				
800				
900				

Pengaturan Nilai Kendali Derivative pada Sistem Kendali PID

$K_p = 300$ $K_i = 550$

Nilai K_d	<i>Rise Time</i>	<i>Overshoot</i> 10^{-4}	<i>Settling Time</i>	<i>S-S Error</i>
35				
40				
45				
50				
55				

2. Buatlah respon dengan menggunakan program Matlab dengan M.file dan simulink pengendali P, PD,PI dan PID pada sistem kendali Posisi Motor DC bila diketahui model sistem kendali ini :



Gambar 10. Model Motor DC

- * moment inertia rotor (J) = $3.2284E-6 \text{ kg.m}^2/\text{s}^2$
- * damping ratio of the mechanical system (b) = $3.5077E-6 \text{ Nms}$
- * electromotive force constant ($K=K_e=K_t$) = 0.0274 Nm/Amp
- * electric resistance (R) = 4 ohm
- * electric inductance (L) = $2.75E-6 \text{ H}$
- * input (V): Source Voltage
- * output (θ): position of shaft
- * The rotor and shaft are assumed to be rigid

Fungsi alihnya yaitu :

$$\frac{\theta}{v} = \frac{K}{s((Js + b)(Ls + R) + K^2)}$$

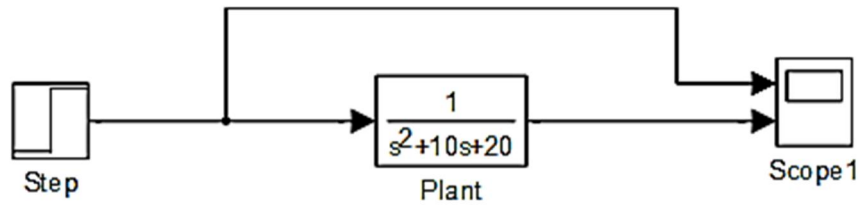
3. Buatlah respon dengan menggunakan program Matlab dengan M.file dan simulink pengendali P, PD,PI dan PID pada sistem kendali Kecepatan Motor DC bila diketahui model seperti pada gambar 9. Dan fungsi alihnya diketahui sebagai berikut :

$$\frac{\theta}{v} = \frac{K}{(Js + b)(Ls + R) + K^2}$$

- * moment of inertia of the rotor (J) = $0.01 \text{ kg.m}^2/\text{s}^2$
- * damping ratio of the mechanical system (b) = 0.1 Nms
- * electromotive force constant ($K=K_e=K_t$) = 0.01 Nm/Amp
- * electric resistance (R) = 1 ohm
- * electric inductance (L) = 0.5 H
- * input (V): Source Voltage
- * output (θ): position of shaft
- * The rotor and shaft are assumed to be rigid

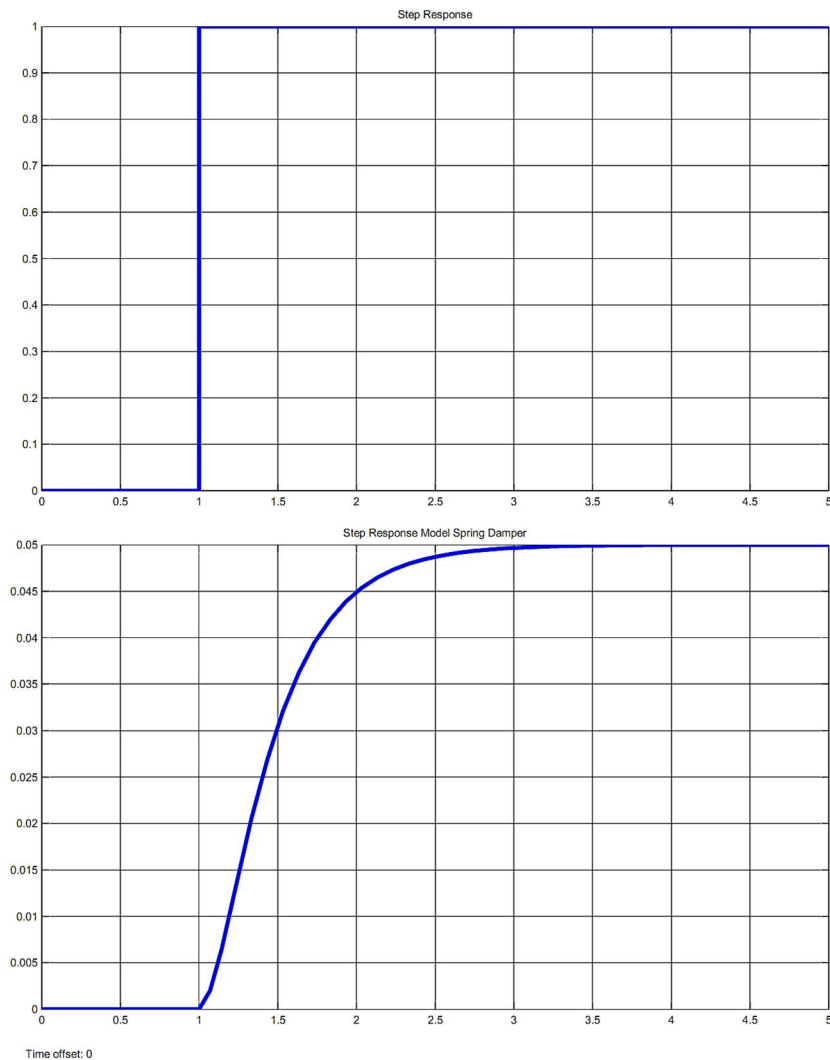
IV. PERCOBAAN 2

Dengan model spring damper yang sama pada percobaan sebelumnya, buatlah model step response tersebut dengan menggunakan simulink. Di bawah ini merupakan gambar step response model spring damper.



Gambar 11. Simulasi Step response model spring damper menggunakan simulink

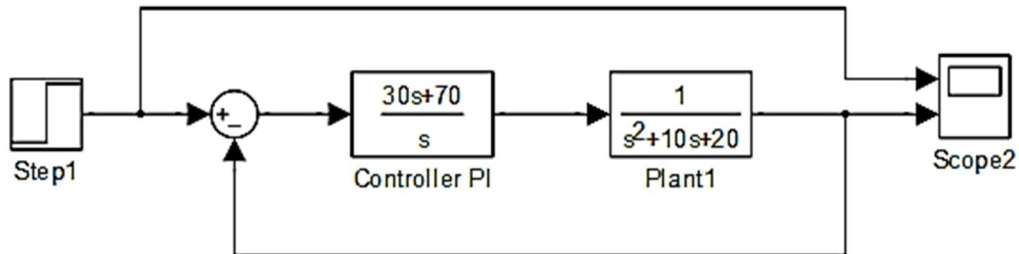
Lakukan pengaturan untuk modul Step dengan konfigurasi seperti hasil grafik dibawah ini :



Gambar 12. Grafik hasil step response model spring damper

A. Kendali Proporsional dan Integral

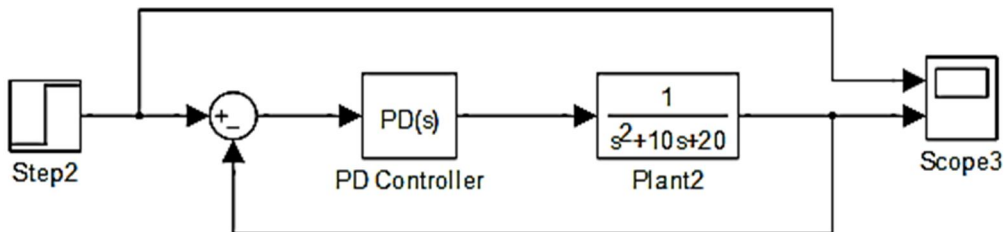
Dengan percobaan model sistem di atas, cobalah tambahkan sistem kendali proporsional dan derivative dengan menggunakan modul *transfer function*. Jika diketahui nilai $K_p = 30$ dan $K_i = 70$.



Gambar 13. Model sistem kendali PI menggunakan simulink

B. Kendali Proporsional dan Derivative

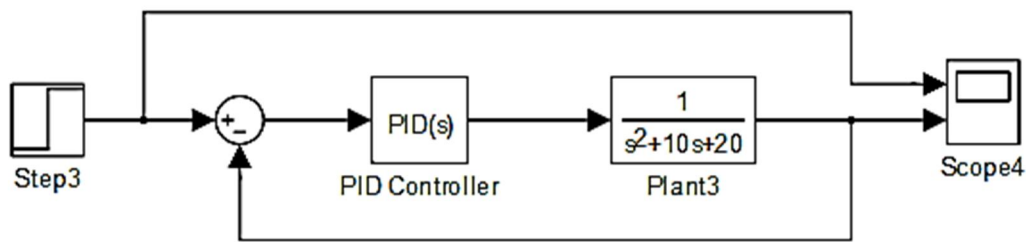
Untuk percobaan kendali proporsional dan derivative, cobalah gunakan sistem kendali dengan menggunakan modul *PID Controller*. Dengan nilai $K_p = 300$ dan $K_d = 10$.



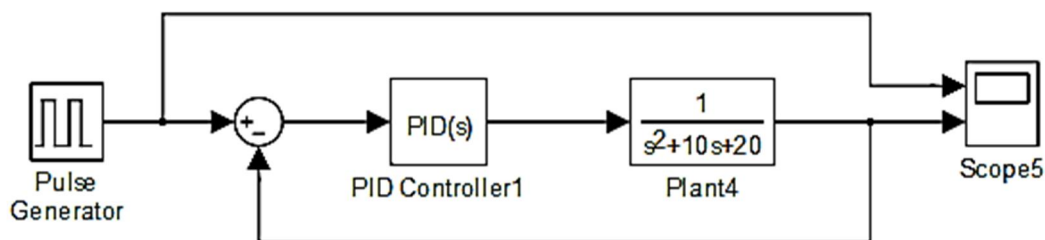
Gambar 14. Model sistem kendali PD menggunakan simulink

C. Kendali Proporsional, Integral dan Derivative

Percobaan ini menggunakan kendali PID dan masih menggunakan modul *PID Controller*. Dengan nilai $K_p = 250$, $K_i = 500$, $K_d = 25$ dan $\text{Filter}(N) = 71$. Kemudian cobalah uji dengan masukan berupa sinyal generator pulse atau impulse response dengan frekuensi 1 Hz.



Gambar 15. Model sistem kendali PID menggunakan simulink



Gambar 16. Model sistem kendali PID menggunakan simulink dengan masukan impulse response

Tugas

1. Cobalah tentukan pada frekuensi berapakah kestabilan sistem mulai berkurang untuk *rise time* dan *settling time* pada sistem kendali PID dengan masukan generator pulsa?

DAFTAR PUSTAKA

1. A. Johnson. Michael, Mohammad H.Moradi,2005, "PID Control : New Identification And Design Method, Springer.
2. Ali. Muhammad, " Pembelajaran Perancangan Sistem Kontrol Pid Dengan Software Matlab" Jurnal Universitas Negeri Yogyakarta.
3. Asisten Dasar Sistem Kendali. 2009. Modul Praktikum Dasar Sistem Kendali. Medan : Universitas Sumatera Utara.
4. <http://www.google.co.id>, "PengenalanMATLABpadaSistemKontrol", 2009.
5. Ogata, Katsuhiko, 2002, "Modern Control System" Third Edition. New Jersey: Prentice Hall.